







LS 5.1 | Form und Funktion menschlicher Zähne

Stelle/lege deine Zähne mit in die Tabelle neben das zugehörige Bild und beschreibe anhand der systematischen Zahnerkennung, woran du den Zahn erkannt hast.

Die anwesende Projektlehrerin bzw. der anwesende Projektlehrer kontrolliert mit dir dein Ergebnis und hilft dir, es in guter Qualität auszudrucken. Speichere es auch in deinem Home-Verzeichnis und in deinem Moodle-Bereich.

	Oberkiefer	Unterkiefer	Beschreibung
1er			
2er			
3er			
4er			
5er			
6er			
7er			